

Innlating 18.02.25 5.fl.



3.79 Rokna, hvussu nógv hetta kostar.

a Tríggir posar av leyki

c Átta posar av gularótum

b Fimm brokkoli


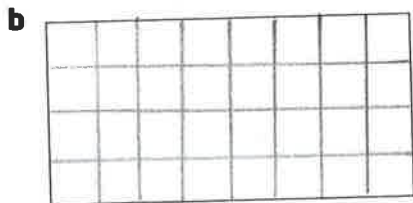
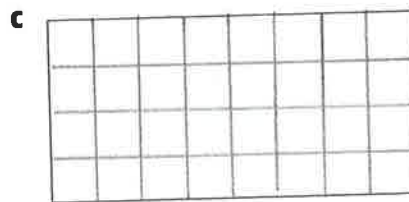

d Sjey posar av tomatum

3.80 a Steinar hevur 50 krónur og keypir tríggjar agurkir.
Hvussu nógv hevur hann so eftir?

b Eva hevur 200 krónur og keypir fýra posar av gularótum og fýra posar av piparfruktum. Hvussu nógv hevur hon so eftir?

3.81 Hanus keypir grønmeti fyri um leið 40 krónur.
Ger eitt uppskot til, hvat hann man keypa.

4.27 Hvussu stórt er arealið á rektanglunum? Finn talið á rútum.



4.28 Hvussu stórt er arealið á rektanglunum? Brúka rætta máteind.

